

НЭГДҮГЭЭР ХЭСЭГ. СОНГОХ ДААЛГАВАР

Санамж:

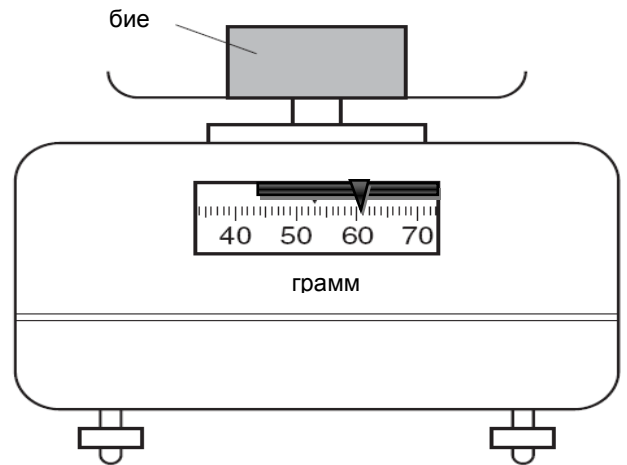
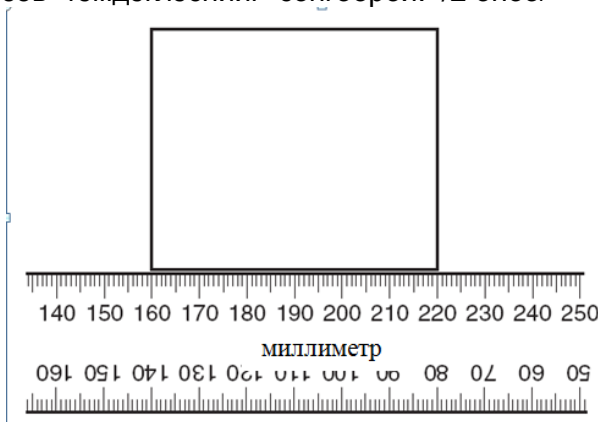
1. Асуулт даалгавар бүрийг анхааралтай, дуустал уншиж гүйцэтгээрэй.
2. Даалгавруудыг бодох зайг тухай бүрт нь үлдээлээ.

1. Шулуун замаар явж буй автобусны хурд заагч $40 \frac{\text{км}}{\text{ц}}$ хурдыг зааж байв. Автобусанд сууж яваа зорчигчийн хурдыг ямар биетэй харьцуулбал мөн $40 \frac{\text{км}}{\text{ц}}$ гэж болох вэ?/2 оноо/

А. Автобусны зогсоол	D. Өөдөөсирж буй машин
В. Автобусны жолооч	Е. Араас ирж яваамашин
С. Хамт сууж яваа зорчигч	
2. Хөнгөнцагаан 660°C температурт хайлдаг. 660°C температурт хөнгөнцагаан ямар төлөвт байж болох вэ? /2 оноо/

А. Хатуу	D. Хатуу, шингэн, Хатуу ба шингэн
В. Шингэн	Е. Хий, шингэн, шингэн ба хий
С. Хий	
3. 21°C температуртай ерөөнд байгаа халууны шилийг сугандаа хийхэд дулаан хаанаасхаашаа шилжих вэ?/2 оноо/

А. Хүнээс халууны шил рүү, хүнээс өрөө рүү	D. Хүнээс өрөө рүү
В. Халууны шилнээс хүн рүү, өрөөнөөс хүн рүү	Е. Хүнээс халууны шил рүү
С. Өрөөнөөс хүн рүү	
4. Зүсмэл биеийн уртыг шугамаар, массыг жигнүүрээр хэмжиж буйг харуулав. Хэмжилтийн дүнг зөв тэмдэглэснийг сонгоорой. /2 оноо/



- | | | |
|-----------------|-----------------|-----------------|
| A. 60 мм, 61 г | C. 220 мм, 61 г | E. 160 мм, 66 г |
| B. 160 мм, 61 г | D. 60 мм, 66 г | |
5. “Долоон бурхан” юуны нэр вэ? /2 оноо/

А. Нэг одны нэр В. Нарны аймгийн нэг гараг С. Долоон тод одны ойролцоо орших оддыг багтаасан тэнгэрийн хэсэг D. Долоон ширхэг одны нэр E. Тэнгэрийн хоногийн эргэлтээр байрлал нь өөрчлөгддөггүй од	
---	--

6. Соронзон оронтой холбоотой хэмжигдэхүүнүүд ба тэдгээрийг олох томъёонуудыг зөв харгалзуулна уу. /2 оноо/

1. Соронзон орноос гүйдэлд үйлчлэх хүч
2. Ороомгийн индуклэл
3. Урт шулуун гүйдлийн үүсгэх соронзон орны соронзон индукци
4. Гүйдэлтэй ороомгийн соронзон энерги

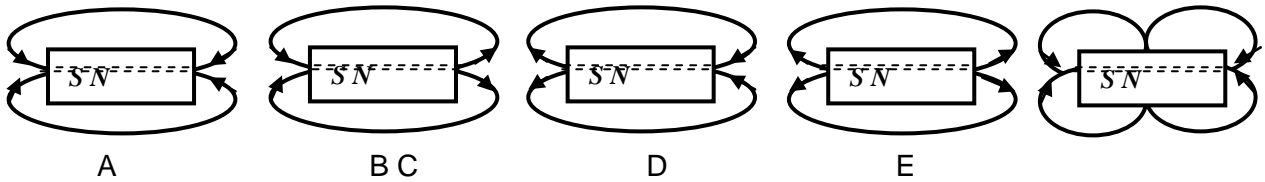
- a. $L = \frac{\Phi}{I}$
- b. $F = IBl \sin\alpha$
- c. $B = \mu\mu_0 \frac{I}{2\pi r}$
- d. $U = \frac{LI^2}{2}$

A. 1b2a3d4c
B. 1a2b3c4d

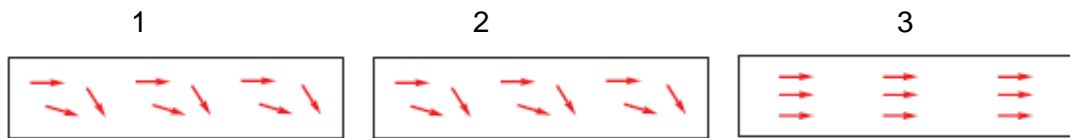
C. 1c2a3b4d
D. 1d2c3a4b

E. 1b2a3c4d

7. Доорх зурагт соронзон орны шугамыг аль нь зөв дүрсэлсэн бэ?/2 оноо/



8. Соронзлогдсон төмрийн доторх эгэл соронзуудын байрлал аль нь зөв бэ?/2 оноо/



A. 3

B. 2

C. 1

D. 1,2

E. 2, 3

9. Ургамал амьтны гаралтай олдворын нас тодорхойлоход ${}^6\text{C}^{14}$ гэсэн изотопыг хэрэглэдэг. Үүний цөм хичнээн нейтронтой вэ? /2 оноо/

A. 6

B. 8

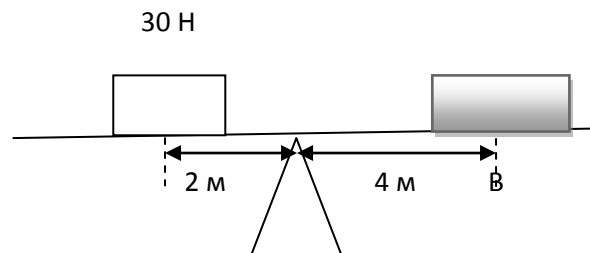
C. 14

D. 20

E. 0

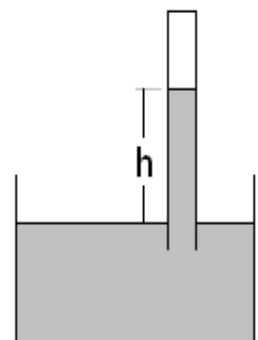
10. Зурагт үзүүлсэн жингүй хөшүүргийн В цэгт ямар жинтэй ачаа тавивал хөшүүрэг хэвтээ байрлалтай байх вэ? /2 оноо/

- A. 4Н
- B. 8Н
- C. 15 Н
- D. 40 Н
- E. 60Н

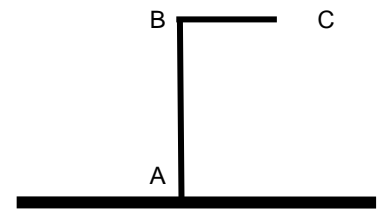


11. Мөнгөн уст барометрийн заалтын тухайбодомжоосзөвийг сонгоно уу./2 оноо/

- A. Гадна агаарын даралт ихсэхэд мөнгөн усны баганын өндөр нэмэгдэнэ.
- B. Гадна агаарын даралт ихсэхэд мөнгөн усны баганын өндөр буурна.
- C. Гадна агаарын даралт багасахад мөнгөн усны баганын өндөр өөрчлөгдөхгүй.
- D. Гадна агаарын даралт ихсэхийн хамт температур өссөн бол мөнгөн усны баганын өндөр өөрчлөгдөхгүй.
- E. Гадна агаарын даралт багасахын хамт температур өссөн бол мөнгөн усны баганын өндөр өөрчлөгдөхгүй.

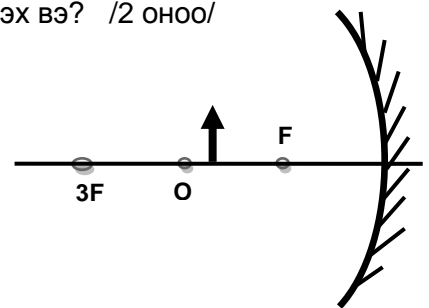


12. Г үсэг хэлбэртэй болгосон төмөр утасны Аүзүүрийн хэсгийг хөргөв. АВ, ВС хэсгийн урт хэрхэн өөрчлөгдөх вэ? /2 оноо/
- A. АВ хэсэг агшиж богиносно, ВС хэсгийн урт өөрчлөгдөхгүй.
 - B. АВ хэсгийн урт өөрчлөгдөхгүй, ВС хэсэг агшиж богиносно.
 - C. АВ, ВС хэсэг хоёулаа уртасна.
 - D. АВ, ВС хэсэг хоёулаа агшиж богиносно.
 - E. АВ ба ВС хэсгийн урт өөрчлөгдөхгүй.

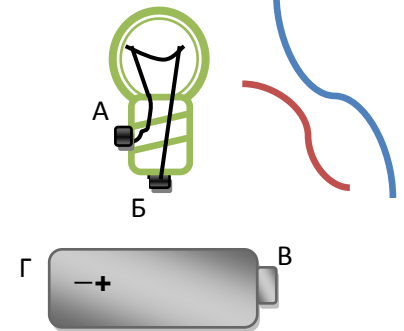


13. Гэрлийн үзэгдэлтэй холбоотой бодомжуудаас БУРУУГ олно уу. /2 оноо/
- I. Гэрлийн тусламжтайгаар хүн их мэдээлэл хүлээж авдаг.
 - II. Ном гэрэл үүсгэгч учраас номыг унших боломжтой
 - III. Номноос ойсон гэрэл нүдэнд туссанаар ном унших боломжтой болдог.
 - IV. Номноос гарсан, нүднээс гарсан гэрлүүд огтлолцсоноор номыг унших боломжтой.
- A. I, II B. I, III C. II, III D. II, IV E. III, IV

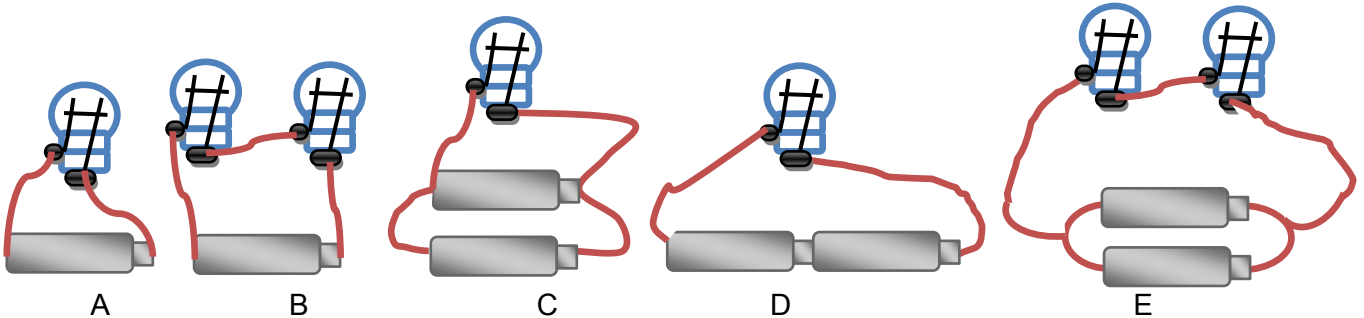
14. Зурагт өгсөн биеийн дүрс толины оройгоос ямар зайд үүсэх вэ? /2 оноо/
- A. $0 < b < f$
 - B. $f < b < 2f$
 - C. $2f < b < 3f$
 - D. $3f < b < 4f$
 - E. $3f < b < \infty$



15. Зурагт өгсөн батарей чийдэнгээс тогтох задгай хэлхээнд дамжуулагч утаснуудыг аль хооронд холбовол чийдэн асах вэ? /2 оноо/
- A. А ба Б, В ба Г
 - B. А ба Б, Б ба Г
 - C. А ба Г, Б ба В
 - D. А ба Г, Б ба Г
 - E. А ба Г, В ба Г



16. Зурагт өгсөн чийдэнгүүдийн аль нь тод асах вэ? /2 оноо/



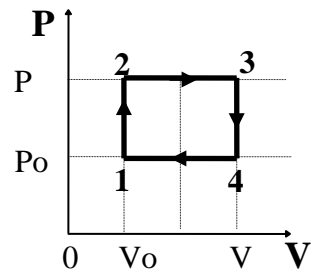
17. 250 В, 16 А бичигтэй олон залгуурыг шатахааргүй залгасан хослолыг сонгоно уу? /2 оноо/
- A. Индүү, зуух
 - B. Индүү, халаагуур
 - C. Ус буцалгагч, зуух
 - D. Ус буцалгагч, индүү
 - E. Ус буцалгагч, индүү, халаагуур

Хэрэглэгч	Хүчдэл	Чадал
ус буцалгагч	220 В	1500 Вт
индүү	220 В	2500 Вт
зуух	220 В	2600 Вт
халаагуур	220 В	2000 Вт

18. Өвлийн өдөр төмөр чингэлэгнандхалсан байхыг сурагч анзаарав. Учрыг бөөмсийн хөдөлгөөнөөр тайлбарлана уу./2оноо/
 А. Агаарын бөөмүүд төмрийг мөргөж халаана.
 В. Төмрийн бөөмс хөдөлдөггүй.
 С. Агаарын урсгалаар төмөр хална.
 D. Нарны гэрлийн энерги төмрийн бөөмсийн хөдөлгөөний энергид шилжин, температур нэмэгдэнэ.
 E. Нарны гэрлийн энерги төмрийн бөөмсийн хөдөлгөөний энергид шилжин, температур буурна .
19. Бөөмийн хөдөлгөөн ба биеийн дулааны шинж чанарын тухай илэрхийлсэн өгүүлбэрүүдээс БУРУУГ нь сонгоно уу? /2 оноо/
 А. Хүрэлцэж буй халуун биеэс хүйтэн бие рүү бөөмийн хөдөлгөөнөөр дулаан зөөгддөг
 В. Металлууд дулааныг харилцан адилгүй дамжуулна
 С. Агаар дулаан муу дамжуулдаг чанарыг дулаан хувцас хийхэд ашиглана.
 D. Цацралын үед дулааны энерги бөөмийн хөдөлгөөнөөр зөөгдөнө.
 E. Цайны аягыг дулаан дамжуулал муутай материалаар хийдэг.
20. 30% ашигт үйлийн коэффициенттэй дулааны хөдөлгүүр нэг циклд 120 Ж ажил гүйцэтгэсэн бол хөргүүрт шилжүүлсэн дулааны хэмжээг олно уу. /2 оноо/
 А. 280Ж В. 400Ж С. 680Ж. D.84 Ж E. 36 Ж

21 ба 22 – р даалгаврын өгөгдөл:

Үрэлтгүй хөдлөх бүлүүрээр таглагдсан цилиндр дотор идеал хий байв. Идеал хий 1 → 2 → 3 → 4 → 1 төлвүүдийг дамжин хувирсныг даралт эзэлхүүний диаграммд харуулав.



21. Диаграммын аль цэгийн төлөвт хийн дотоод энерги хамгийн бага байх вэ? /2 оноо/
 А. 1 С. 3 E. Бүгд ижил
 В. 2 D. 4
22. Аль процесст хий ажил хийсэн вэ? /2 оноо/
 А. 1→2; 2→3 В. 1→2; 3→4 С. 1→2; 4→1 D. 2→3; 4→1 E. 2→3; 3→4
23. Жолооч машинаараа нэг хоногт дунджаар 8 ц явдаг, машин 1 ц тутамд 11 кг нүүрс хүчлийн хий үүсгэдэг гэе. Машины нэг хоногт үүсгэх нүүрсхүчлийн хийг хэдэн кг нүүрс шатааснаар үүсгэх вэ? /3 оноо/
Санамж: Нүүрс дан нүүрстөрөгчөөс тогтох ба бүрэн шаталт хийдэг гэе. Нүүрсний шатах урвал: $C + O_2 = CO_2$; $\mu_{O_2} = 32 \frac{г}{\text{моль}}$; $\mu_C = 12 \frac{г}{\text{моль}}$;
 А. 22 кг В. 23 кг С. 24 кг D. 25 кг E. 26 кг
24. Никелийн атомын концентраци $8,5 \cdot 10^{28} \frac{1}{\text{м}^3}$, нэг атомынх нь масс $10,5 \cdot 10^{-26}$ кг бол нягтыг олно уу. /2 оноо/
 А. $8,5 \cdot 10^{28} \frac{1}{\text{м}^3}$ В. $10,5 \cdot 10^{-26}$ кг С. $8,5 \cdot 10^3 \frac{\text{кг}}{\text{м}^3}$ D. $8,9 \cdot 10^3 \frac{\text{кг}}{\text{м}^3}$ E. $2,0 \cdot 10^3 \frac{\text{кг}}{\text{м}^3}$

25. Туухайг динамометрээс зүүж агаарт жигнэхэд 4,0 Н зааж байв. Туухайг ус руу далд ортол дүрэхэд динамометрийн заалт 2,5 Н болж буурав. Усны түлхэх хүчний хэмжээ хэд вэ?/2 оноо/
 A. 3,5 Н
 B. 0,0 Н
 C. 1,5 Н
 D. 2,0 Н
 E. 2,5 Н

Санамж : Хийн молекулын дундаж кинетик энерги $\frac{m\langle v^2 \rangle}{2} = \frac{3}{2} kT$ гэж илэрхийлэгдэнэ. Үүнийг 26 ба 27-р даалгаварт хэрэглээрэй.

26. Битүү саванд байсан идеал хийн молекулын дундаж квадратлаг хурд 3 дахин багасахад дотоод энерги нь хэд дахин өөрчлөгдөх вэ? /2 оноо/
 A. 3 дахин ихэснэ. C. Өөрчлөгдөхгүй E. 9 дахин багасна.
 B. 9 дахин ихэснэ. D. 3 дахин багасна.

27. Идеал хийг халаахад абсолют температур нь 4 дахин ихэсэв. Хийг халааснаас гарах үр дүнгийн тухай аль дүгнэлт зөв вэ?/2 оноо/
 A. Хийн молекулуудын хурдны муж өргөсөх ба дундаж квадратлаг хурд 2 дахин ихэснэ.
 B. Хийн молекулуудын хурдны муж өргөсөх ба дундаж квадратлаг хурд 4 дахин ихэснэ.
 C. Хийн молекулын дундаж квадратлаг хурд 4 дахин ихэснэ.
 D. Хийн молекулын дундаж кинетик энерги 2 дахин ихэснэ.
 E. Хийн молекулын дундаж кинетик энерги 16 дахин ихэснэ.

28. Биеийг 8 м/с хурдтай эгц дээш шидэв. Хөөрөх өндөр, эргэж байрандаа ирэх үеийн хурдыг ол? Агаарын эсэргүүцлийг тооцохгүй. $g = 10 \frac{m}{c^2}$. /2 оноо/
 A. $0 \text{ м}, 8 \frac{m}{c}$
 B. $10 \text{ м}, 0 \frac{m}{c}$
 C. $10 \text{ м}, 8 \frac{m}{c}$
 D. $3,2 \text{ м}, 8 \frac{m}{c}$
 E. $3,2 \text{ м}, 0 \frac{m}{c}$

29. Дэлхий нарыг тойрон эргэх үед доорх нөхцөлүүдийн аль нь биелэх вэ?/2 оноо/

I. $m \cdot a_r = \gamma \cdot \frac{M \cdot m}{r^2}$; таталцлын хүчээр тангенциал хурдатгал үүснэ.

II. $\frac{m \cdot v^2}{2} - \gamma \frac{M \cdot m}{r} = const$; механик энерги хадгалагдана.

III. Гаригийн радиус вектор нь ижил хугацаанд ижил талбай зурна.

- A. I B. II C. III D. I, II E. II, III

30. Дэлхийн төвөөс экваторын дээр нэг байранд байнга харагдах хиймэл дагуул хүртэлх зайг дэлхийн төвөөс сар хүртэлх зайд харьцуулсан харьцааг олно уу. Сар дэлхийг эргэх үеийг 27 хоног гэж үзнэ. /2 оноо/

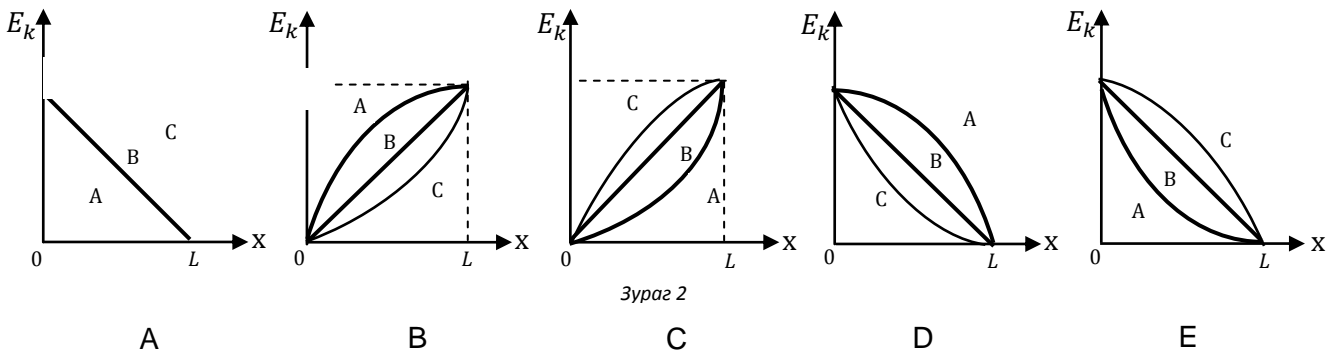
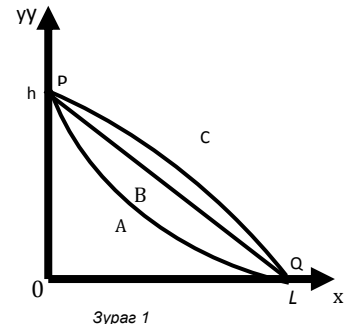
Санамж:Кеплерийн гуравдугаар хуулиар $\frac{r_1^3}{r_2^3} = \frac{T_1^2}{T_2^2}$ байдаг. r - дагуулын дэлхийг тойрох хөдөлгөөний радиус, T - дагуулын дэлхийг тойрох хөдөлгөөний үе.

- A. 3B. 9C. $\frac{1}{27}$ D. $\frac{1}{3}$ E. $\frac{1}{9}$

31. 6 кг масстай хайрцгийг тэгш хэвтээ гадарга дагуу 50 Н хүч гарган 10 м зайд чирээд дараа нь 3 м өндөрт жигд өргөж гаргахад хийсэн нийт ажлыг олоорой. Хүндийн хүчний хурдатгал $g = 10 \frac{м}{с^2}$. /2 оноо/

- A. 180 Ж B. 500 Ж C. 680 Ж D. 1800 Ж E. 5000 Ж

32. Зураг 1-д өгснөөр Р цэгт тайван байсан биеийг А, В, С гурван өөр хэлбэрийн үрэлтгүй гадаргуугаар Q цэг хүртэл гулсуулжээ. Р ба Q цэгүүдийг дайруулан x , утэнхлэг авсан. Биеийн кинетик энерги E_k - ийн x координатаас хамаарах хамаарлын зөв графикийг (зураг 2) сонгоно уу. /2 оноо/



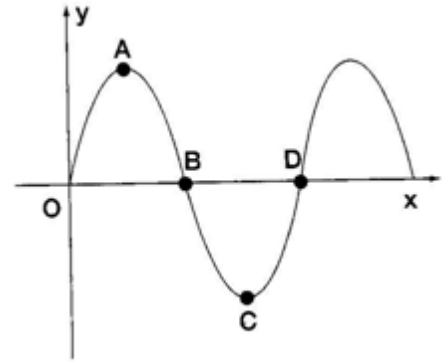
33. Нарны зайгаар 170 Вт хөлдөөгчийг ажиллуулахад нарны зайн талбайг ямар хэмжээтэй сонгох вэ? Нарны эгц тусгалын эрчим $1000 \frac{Вт}{м^2}$. /2 оноо/

A. 17 м² B. 1,7 м² C. 0.17 м² D. 17000 м² E. 170000 м²

34. Дууны долгионы талаарх БУРУУ өгүүлбэрийг олно уу? /2 оноо/

A. Агаарт тарж буй дуу тууш долгион. D. Дуу-сонсогддог механик долгион.
 B. Дууг чих хүлээн авдаг. E. Хүн 17-20000 Гц давтамжтай дууг сонсдог.
 C. Дуу харимхай бус орчинд тардаг.

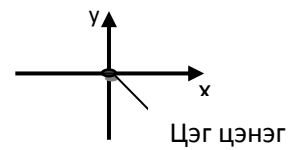
35. Оосроор x тэнхлэгийн эерэг чиглэлд тарж байгаа хөндлөн долгион байв. Тухайн агшинд оосрын цэгүүдийн шилжилтийг зурагт харуулав. Оосрын тэмдэглэсэн цэгүүдээс утэнхлэгийн эерэг чиглэлд хамгийн их хурдтай цэгийг сонгоно уу./2 оноо/
- A. A
 - B. B
 - C. C
 - D. D
 - E. A, C



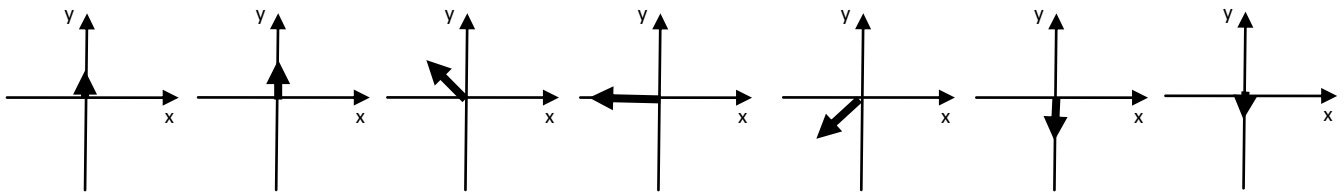
36. Хивсэн дээгүүр яваад зөөврийн компьютерт хүрэхэд дэлгэц шатна гэдгийг тайлбарлана уу. /2 оноо/
- A. Хүн хивстэй үрэлцэж цэнэглэгдээд, зөөврийн компьютерт хүрэхэд цэнэгээ шилжүүлнэ.
 - B. Хүн хивстэй үрэлцэж цэнэглэгдээд, зөөврийн компьютерт хүрэхэд цэнэг авна.
 - C. Хүн зөөврийн компьютерээс авсан цэнэгээ хивс рүү өгнө.
 - D. Хүн зөөврийн компьютерээс цэнэг авдаг.
 - E. Хүн хивстэй үрэлцэж цэнэглэгдэнэ.

37. Цахилгаан орон ба соронзон орны шугамын тухай зөв үндэслэлийг олно уу?/2 оноо/
- A. Цахилгаан ба соронзон орны шугам хадгалагддаг.
 - B. Цахилгаан ба соронзон оронд бодитой шугам байдаг.
 - C. Цахилгаан орны шугамыг төмрийн үртсээр, соронзон орны шугамыг диэлектрик үртсээр илрүүлж болно.
 - D. Ямар ч оронд шугам бодитой оршдоггүй, энэ нь хийсвэр ойлголт.
 - E. Цахилгаан орны шугам нэмэх цэнэгээс эхэлж хасах цэнэг дээр, соронзон орны шугам N туйлаас эхэлж S туйл дээр дуусдаг.

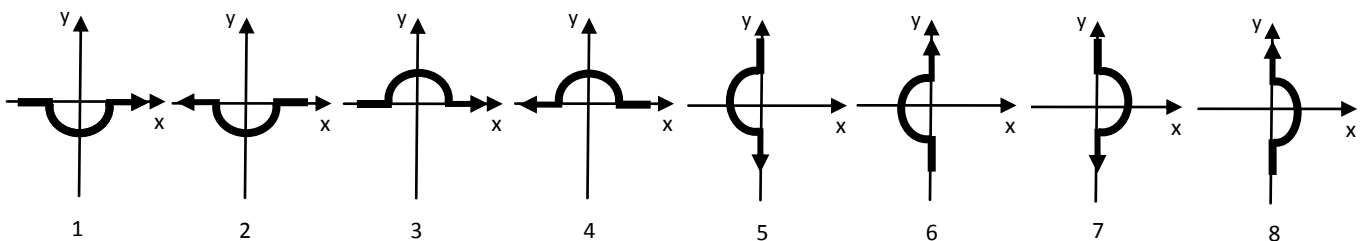
38. Координатын эх дээр эерэг цэг цэнэг байрлуулаад(зураг1) туршилт цэнэг ашиглан хавтгайн цэгүүд дээр цахилгаан орны хүчлэгийг хэмжив. Дараалсан долоон цэгт хийсэн хэмжилтийн дүнг 2-р зурагт харуулсан байна. Сумнууд цахилгаан орны хүчлэгийн чиглэл хэмжээг харуулна. Туршилт цэнэгийг аль траектороор хөдөлгөсөн бэ?Зураг 3/Зоноо/



Зураг 1



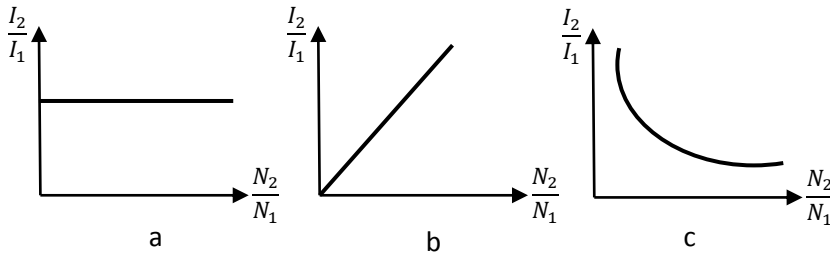
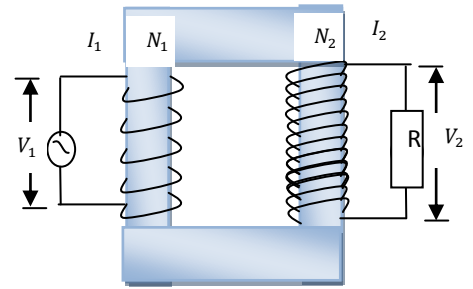
Зураг 2



Зураг 3

- A. 1
- B. 2
- C. 5
- D. 6
- E. 7

39. Трансформаторын анхдагч N_1 ороодостой ороомгоор I_1 гүйдэл гүйж, V_1 хүчдэл унах ба хоёрдогч N_2 ороодостой ороомгоор I_2 гүйдэл гүйж, R эсэргүүцэл дээр V_2 хүчдэл унажээ. Үүнд V_1, V_2, I_1, I_2 нь гүйдэл хүчдлийн үйлчлэгч утгууд юм. Хэрэв диаграммын хэвтээ тэнхлэгт $\frac{N_2}{N_1}$ харьцааг, босоо тэнхлэгт $\frac{I_2}{I_1}$ харьцааг авбал тэдгээрийн хамаарлыг харуулсан графикийн дугаар ба диаграммыг тайлбарлах үндэслэлийг олж зөв хос хариуг сонгоно уу? /3 оноо/



A. 1a

B. 2b

C. 3c

1. Трансформаторын хоёрдогч ороомгийн ороодсын тоо олон бол гүйдлийн хүчийг өсгөнө.
 2. Трансформаторын хоёрдогч ороомгийн ороодсын тоо олон бол гүйдлийн хүчийг бууруулна.
 3. Трансформаторын ороомгийн ороодсын тоо гүйдлийн хүчинд нөлөөлөхгүй.
- D. 2c E. 3b

40. Цацраг идэвхит цөмийн 40% нь 20 цагт задралгүй үлдсэн бол задрал эхэлснээс 40 цагийн дараа хэдэн хувь нь задарсан байх вэ? /2 оноо/

A. 16% B. 20% C. 64% D. 80% E. 84%

41. Тайван байсан $^{230}_{88}\text{Ra}$ цөм α задралаар задрав. Цацарсан α бөөмийн хурдыг үүссэн радоны цөмийн хурданд харьцуулсан харьцааг олоорой. /2 оноо/

Санамж: α бөөм нь гелийн цөм бөгөөд ^4_2He гэж тэмдэглэдэг.

A. 1 B. $\sqrt{57.5}$ C. $\sqrt{56.5}$ D. 56,5 E. 57,5

42. Дэлхийгээс их хурдтай холдож байгаа пуужин дотор хийсэн туршилт түүний цагаар Δt_1 хугацаанд үргэлжлэв. Үүнийг дэлхийтэй холбоотой тооллын системийн цагаар хэмжсэн Δt_2 хугацаатай жишээрэй. /2 оноо/

A. Цаг хугацаа абсолют учраас $\Delta t_1 = \Delta t_2$

B. Пуужинтай холбоотой тооллын системд хугацааны явц удаашрах учраас $\Delta t_1 > \Delta t_2$

C. Пуужинтай холбоотой тооллын системд хугацааны явц түргэсэх учраас $\Delta t_1 > \Delta t_2$

D. Пуужинтай холбоотой тооллын системд хугацааны явц удаашрах учраас $\Delta t_1 < \Delta t_2$

E. Пуужинтай холбоотой тооллын системд хугацааны явц түргэсэх учраас $\Delta t_1 < \Delta t_2$

ХОЁРДУГААР ХЭСЭГ. НӨХӨХ ДААЛГАВАР

Санамж:

1. Энэ хэсэг нь сонгох даалгавар биш тул нөхөх хэсгийн хариуг зөв тогтоож, хариуг бөглөөрэй.
2. Даалгаврын асуулт бүр нь бие биенээсээ үл хамаарна.
3. Зөв хариулсан ХАРИУЛТ бүр 1 оноотой.

2.1. Саванд $-20\text{ }^\circ\text{C}$ температуртай 1 кг мөс байв. Савтай мөсийг 2 кВт чадалтай зуухан дээр тавив.

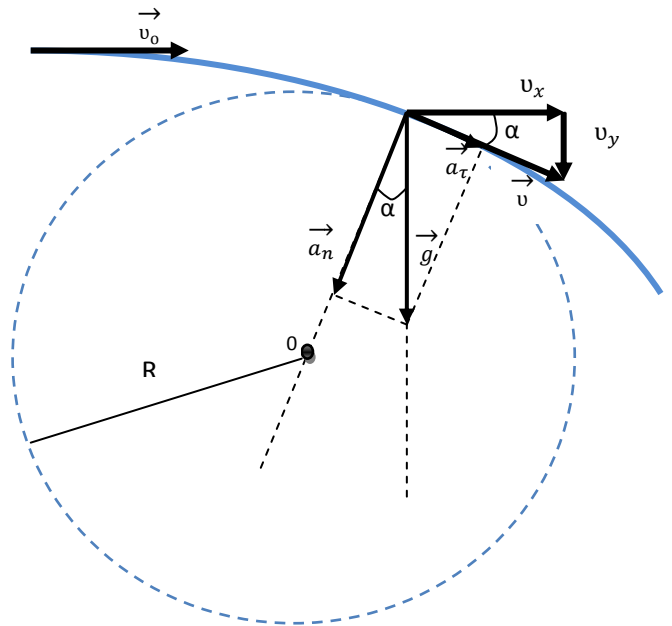
Санамж: Мөсний хувийн дулаан багтаамж $2100\text{ Ж}/(\text{кг}\cdot\text{град})$, мөсний хайлахын хувийн дулаан $340\text{ кЖ}/\text{кг}$, усны хувийн дулаан багтаамж $4200\text{ Ж}/(\text{кг}\cdot\text{град})$, мөсний хайлах температур $0\text{ }^\circ\text{C}$ болохыг ашиглана уу. Савны дулаан багтаамжийг тооцохгүй.

1. Савны температур $\boxed{abc}\text{ }^\circ\text{C}$ байна.
2. Мөсийг халааж хайлуулахад $\boxed{def}\text{ кЖ}$ энерги хэрэгтэй.
3. Зуухыг хэдэн секунд ажиллуулахад 0,6 кг мөс хайлаагүй үлдэх вэ? $\boxed{gh}\text{ с}$

2.2. Чулуугазраас 50 м өндрөөс зурагт үзүүлснээр хэвтээ чигт 10 м/с хурдтай шидэв. Хөдөлгөөний үед агаарын эсэргүүцлийг тооцохгүй. Чөлөөт уналтын хурдатгалыг $g = 10\text{ м}/\text{с}^2$ гэж үз.

Санамж: Бодлогыг шинжлэх явцад хөдөлгөөнийг илэрхийлсэн зургийг ашиглана уу.

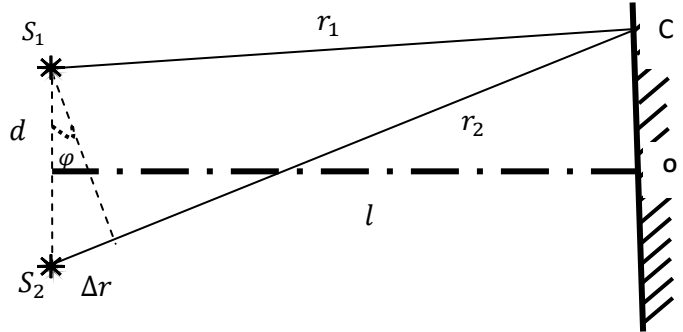
1. Хөдөлгөөн эхэлснээс хойш 4с-ийн дараа хурдны
 - i. хэвтээ байгуулагч $v_x = \boxed{ab}\frac{\text{м}}{\text{с}}$;
 - ii. босоо байгуулагч $v_y = \boxed{cd}\frac{\text{м}}{\text{с}}$ болно.
2. Хурд 50 м/с үед $\cos \alpha = \frac{v_x}{v} = \frac{\boxed{e}}{\boxed{f}}$ болно.
3. Хурд 20 м/с үед $a_n = \boxed{g}\frac{\text{м}}{\text{с}^2}$ болно.



2.3. Бие биенээсээ $d = 2,5$ мкм зайтай S_1, S_2 когерент хоёр үүсгүүрээс $\lambda = 400$ нм ягаан гэрэл гарна. Үүсгүүрүүдийн байгаа хавтгайгаас $l = 1$ м зайд дэлгэцийг байрлуулав.

Санамж: Интерференцийн максимум үүсэх нөхцөл нь $\Delta r = n \cdot \lambda$, зургаас $\Delta r = d \cdot \sin \varphi$ болно. О цэгээс тухайн эрэмбийн максимум хүртэлх ОС, дэлгэц хүртэлх l –н харьцаа нь бага өнцгийн үед $\sin \varphi$ -тэй ойролцоогоор тэнцүү.

1. Хамгийн ихдээ $[a]$ -р эрэмбийн максимум үүснэ.
2. Нэгдүгээр эрэмбийн максимум О цэгээс $[b, c]$ дм зайд үүснэ.
3. Хоёр максимумын хоорондох зай $[d, e]$ дм болно.



2.4. Пүршинд 6 кг масстай ачаа зүүж хэлбэлзүүлэв.

Санамж: Бодлогыг шинжлэх явцад зургийг ашиглана уу.
 $g = 10 \text{ м/с}^2$

1. Ачааг зүүхэд пүрш 0,4 м сунаж тэнцвэрт тогтсон бол пүршний хат $[abc] \frac{\text{H}}{\text{M}}$ байна.
2. Хэлбэлзлийн үед зурагт үзүүлсэн уян харимхайн хүч 30 Н болох агшинд ачааны хурдатгалын хэмжээ $[d] \frac{\text{M}}{\text{с}^2}$ байна.
3. Дүүжингийн босоо хэлбэлзлийн үе ба дүүжин үрэлтгүй хэвтээ гадарга дээр хэлбэлзэх үе хоёрын ялгавар $\Delta T = [e] \text{ с}$ байна.

